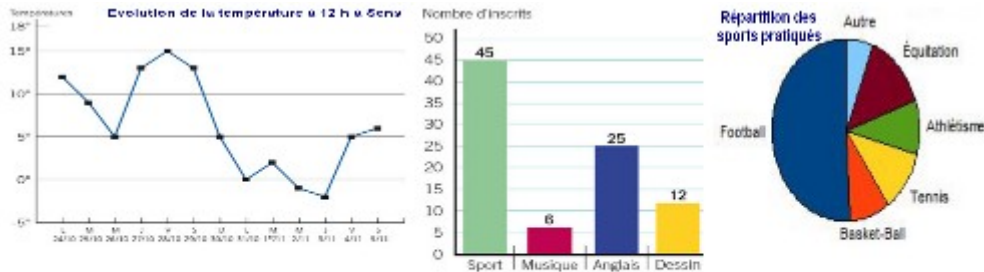


## Prob 3 Lire, construire et interpréter des graphiques

Les graphiques permettent de présenter et lire des données de manière claire et rapide. Il existe des graphiques en courbes, des diagrammes en bâtons ou circulaires.

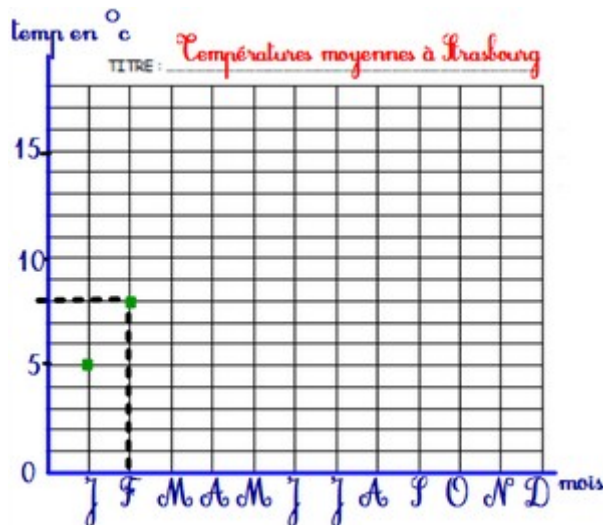


Courbe

Diagramme en bâtons

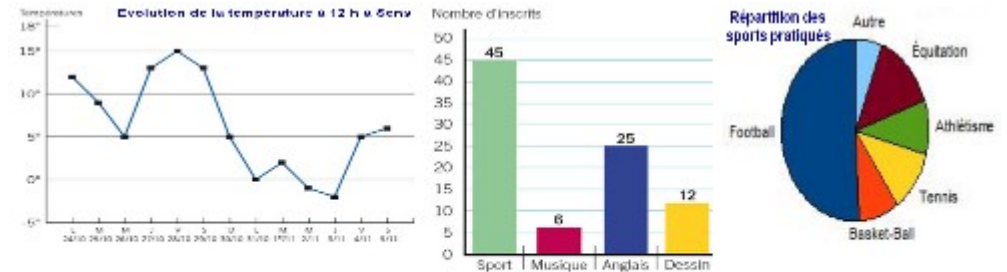
Diagramme circulaire

- Pour construire un graphique, je dois lui donner **un titre**, **tracer 2 axes perpendiculaires gradués** et **nommer ces axes**. Ensuite, je **place chaque point en fonction des ses coordonnées**.



## Prob 3 Lire, construire et interpréter des graphiques

Les graphiques permettent de présenter et lire des données de manière claire et rapide. Il existe des graphiques en courbes, des diagrammes en bâtons ou circulaires.

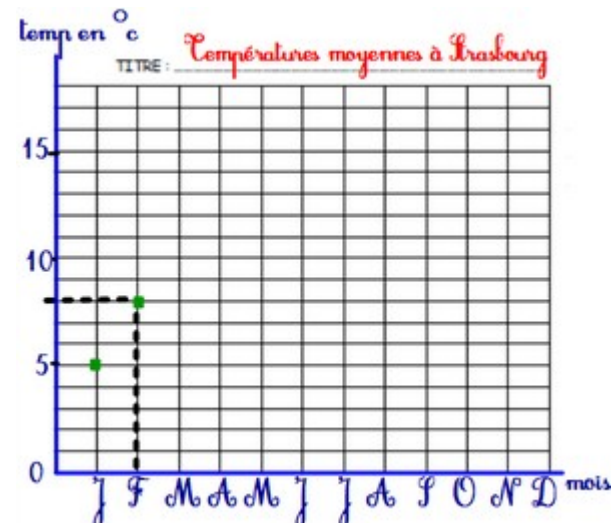


Courbe

Diagramme en bâtons

Diagramme circulaire

- Pour construire un graphique, je dois lui donner **un titre**, **tracer 2 axes perpendiculaires gradués** et **nommer ces axes**.



Ensuite, je **place chaque point en fonction des ses coordonnées**.